



KHỞI ĐỘNG

Trò chơi

XÂY CẦU CHO KHỈ






Tính nhẩm: $60\ 000 - 30\ 000 = ?$





Tính nhẩm $39\ 000 - 5\ 000 = ?$

A large, smiling cartoon monkey is holding a wooden sign that displays the answer to the subtraction problem. The sign is rectangular with rounded corners and a wood grain texture. The monkey is positioned behind the sign, with its head and hands visible.

34 000



Tính nhẩm $58\ 000 - 4\ 000 = ?$





CHỦ ĐỀ 11: CÁC SỐ ĐẾN 100 000

BÀI 65: LUYỆN TẬP CHUNG



LUYỆN TẬP




Tính nhẩm

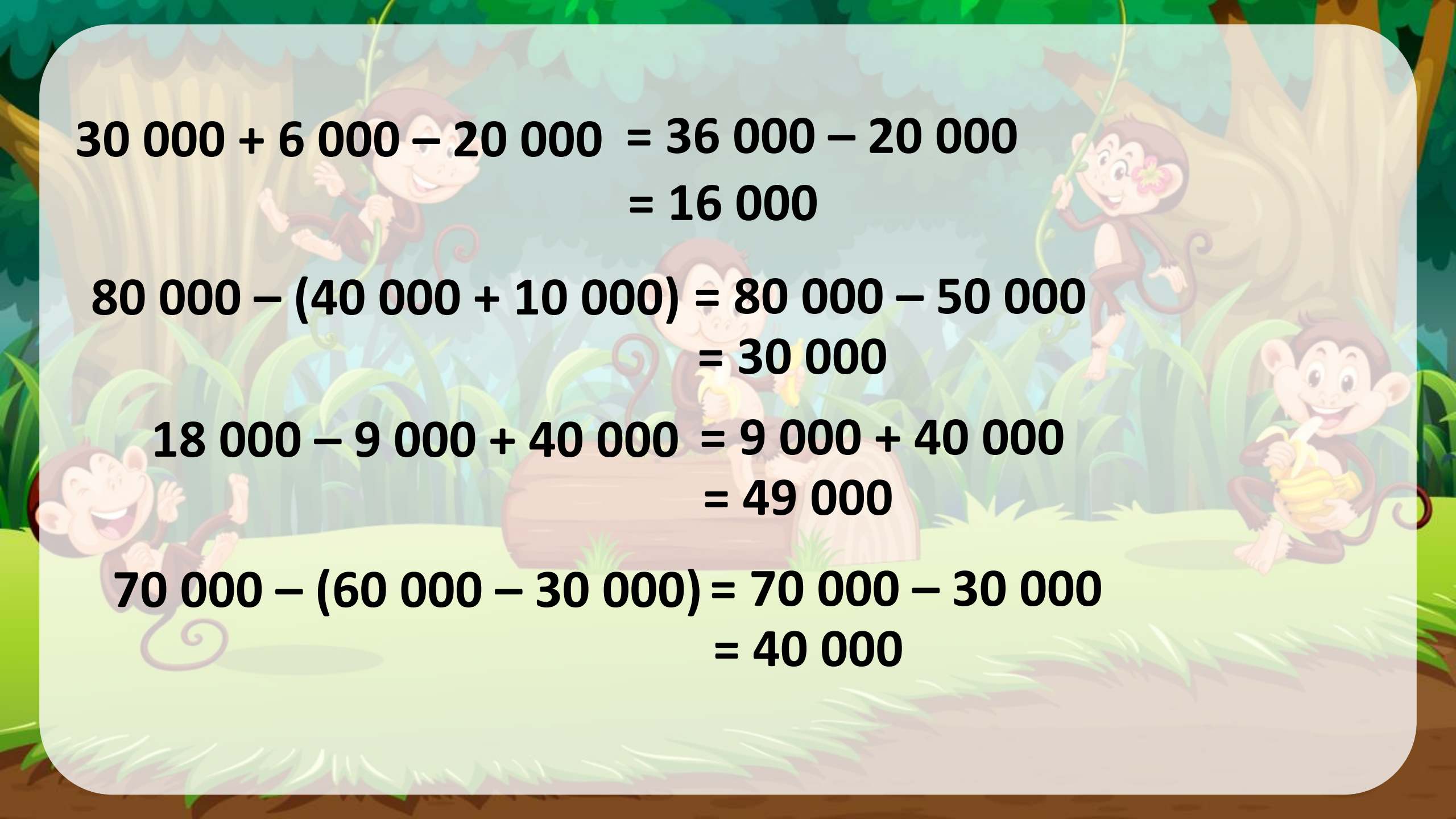
$$30\ 000 + 6\ 000 - 20\ 000$$

$$18\ 000 - 9\ 000 + 40\ 000$$

$$80\ 000 - (40\ 000 + 10\ 000)$$

$$70\ 000 - (60\ 000 - 30\ 000)$$




$$30\ 000 + 6\ 000 - 20\ 000 = 36\ 000 - 20\ 000$$
$$= 16\ 000$$

$$80\ 000 - (40\ 000 + 10\ 000) = 80\ 000 - 50\ 000$$
$$= 30\ 000$$

$$18\ 000 - 9\ 000 + 40\ 000 = 9\ 000 + 40\ 000$$
$$= 49\ 000$$

$$70\ 000 - (60\ 000 - 30\ 000) = 70\ 000 - 30\ 000$$
$$= 40\ 000$$

2

Đ, S ?

$$\begin{array}{r} \text{a)} \\ + \\ 32\ 467 \\ \hline 2\ 825 \end{array}$$

60 717

S

$$\begin{array}{r} \text{b)} \\ - \\ 62\ 958 \\ \hline 473 \end{array}$$

62 485

Đ

$$\begin{array}{r} \text{c)} \\ - \\ 73\ 865 \\ \hline 68\ 529 \end{array}$$

15 346

S

$$\begin{array}{r} \text{d)} \\ + \\ 45\ 376 \\ \hline 38\ 205 \end{array}$$

83 581

S

3 Đặt tính rồi tính

$$8\ 563 + 7\ 284$$

$$42\ 758 + 9\ 235$$

$$32\ 679 - 946$$

$$83\ 627 - 76\ 253$$

3.

$$\begin{array}{r} 8\ 563 \\ + 7\ 284 \\ \hline \end{array}$$

15 847

$$\begin{array}{r} 42\ 758 \\ + 9\ 235 \\ \hline \end{array}$$

51 993

$$\begin{array}{r} 32\ 679 \\ - 946 \\ \hline \end{array}$$

31 733

$$\begin{array}{r} 83\ 627 \\ - 76\ 253 \\ \hline \end{array}$$

7 374

4

Một cửa hàng có 16 500 / xăng, cửa hàng nhập thêm về 9 000 / xăng. Hỏi sau khi bán đi 17 350 / xăng, cửa hàng đó còn lại bao nhiêu lít xăng?

Bài giải:

Sau khi nhập thêm về, cửa hàng có số lít xăng là:

$$16\ 500 + 9\ 000 = 25\ 500 \text{ (l)}$$

Sau khi bán đi 17 350 l, cửa hàng còn lại số lít xăng là:

$$25\ 500 - 17\ 350 = 8\ 150 \text{ (l)}$$

Đáp số: 8 150 / xăng

5

Tính giá trị của biểu thức:

a) $8\ 647 + 6\ 500 - 13\ 217$

b) $15\ 654 - (7460 + 2140)$

**a) $8\ 647 + 6\ 500 - 13\ 217 = 15\ 147 - 13\ 217$
 $= 1\ 930$**

**b) $15\ 654 - (7460 + 2140) = 15\ 654 - 9\ 600$
 $= 6\ 054$**



DẶN DÒ



*Tạm biệt và
hẹn gặp lại*